

WYPEŁNIA ZDAJĄCY

KOD

--	--	--

PESEL

--	--	--	--	--	--	--	--	--	--	--	--

**Miejsce na naklejkę.**

Sprawdź, czy kod na naklejce to  
**M-100.**

Jeżeli tak – przyklej naklejkę.  
Jeżeli nie – zgłoś to nauczycielowi.

**Egzamin maturalny**

**Formuła 2023**

**MATEMATYKA**

**Poziom podstawowy**

**TEST DIAGNOSTYCZNY**

Symbol arkusza

MMA-P0-**100**-2312

DATA: **7 grudnia 2023 r.**

GODZINA ROZPOCZĘCIA: **9:00**

CZAS TRWANIA: **180 minut**

LICZBA PUNKTÓW DO UZYSKANIA: **46**

WYPEŁNIA ZESPÓŁ NADZORUJĄCY


Uprawnienia zdającego do:

- dostosowania zasad oceniania
- dostosowania w zw. z dyskalkulią
- nieprzenoszenia zaznaczeń na kartę.




**Przed rozpoczęciem pracy z arkuszem egzaminacyjnym**

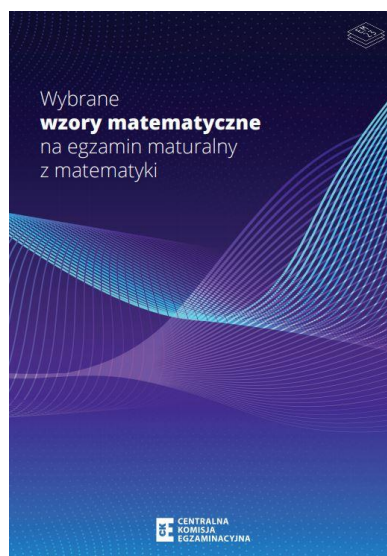
1. Sprawdź, czy nauczyciel przekazał Ci **właściwy arkusz egzaminacyjny**, tj. arkusz we **właściwej formule**, z **właściwego przedmiotu** na **właściwym poziomie**.
2. Jeżeli przekazano Ci **niewłaściwy** arkusz – natychmiast zgłoś to nauczycielowi. Nie rozrywaj banderol.
3. Jeżeli przekazano Ci **właściwy** arkusz – rozerwij banderole po otrzymaniu takiego polecenia od nauczyciela. Zapoznaj się z instrukcją na stronie 2.





## Instrukcja dla zdającego

1. Sprawdź, czy arkusz egzaminacyjny zawiera 33 strony (zadania 1–30).  
Ewentualny brak zgłoś przewodniczącemu zespołu nadzorującego egzamin.
2. Na pierwszej stronie arkusza oraz na karcie odpowiedzi wpisz swój numer PESEL i przyklej naklejkę z kodem.
3. Symbol  zamieszczony w nagłówku zadania oznacza, że rozwiązanie zadania zamkniętego musisz przenieść na kartę odpowiedzi. Ocenie podlegają wyłącznie odpowiedzi zaznaczone na karcie odpowiedzi.
4. Odpowiedzi do zadań zamkniętych zaznacz na karcie odpowiedzi w części karty przeznaczonej dla zdającego. Zamaluj  pola do tego przeznaczone. Błędne zaznaczenie otocz kółkiem  i zaznacz właściwe.
5. Pamiętaj, że pominięcie argumentacji lub istotnych obliczeń w rozwiązaniu zadania otwartego może spowodować, że za to rozwiązanie nie otrzymasz pełnej liczby punktów.
6. Rozwiązania zadań i odpowiedzi wpisuj w miejscu na to przeznaczonym.
7. Pisz czytelnie i używaj tylko długopisu lub pióra z czarnym tuszem lub atramentem.
8. Nie używaj korektora, a błędne zapisy wyraźnie przekreśl.
9. Nie wpisuj żadnych znaków w tabelkach przeznaczonych dla egzaminatora.  
Tabelki umieszczone są na marginesie przy odpowiednich zadaniach.
10. Pamiętaj, że zapisy w brudnopisie nie będą oceniane.
11. Możesz korzystać z *Wybranych wzorów matematycznych*, cyrkla i linijki oraz kalkulatora prostego. Upewnij się, czy przekazano Ci broszurę z okładką taką jak widoczna poniżej.



**Zadania egzaminacyjne są wydrukowane  
na następnych stronach.**



**Zadanie 3. (0–1)**

Pan Grzegorz wpłacił do banku pewną kwotę na lokatę dwuletnią. Po każdym rocznym okresie oszczędzania bank doliczał odsetki w wysokości 5% od kwoty bieżącego kapitału znajdującego się na lokacie. Po dwóch latach oszczędzania pan Grzegorz odebrał z tego banku wraz z odsetkami kwotę 4851 zł (bez uwzględnienia podatków).

**Dokończ zdanie. Wybierz właściwą odpowiedź spośród podanych.**

Kwota wpłacona przez pana Grzegorza na tę lokatę była równa

- A. 4300 zł                      B. 4400 zł                      C. 4500 zł                      D. 4600 zł

<i>Brudnopis</i>																			

**Zadanie 4. (0–1)**

Na osi liczbowej zaznaczono przedział.



**Dokończ zdanie. Wybierz właściwą odpowiedź spośród podanych.**

Zbiór zaznaczony na osi jest zbiorem wszystkich rozwiązań nierówności

- A.  $|x - 2| < 5$                       B.  $|x - 2| > 5$   
 C.  $|x - 5| < 2$                       D.  $|x - 5| > 2$


<i>Brudnopis</i>																			

5.

0-1-2


**Zadanie 5. (0-2)**


Wykaż, że dla każdej liczby całkowitej nieparzystej  $n$  liczba  $3n^2 + 4n + 1$  jest podzielna przez 4.










**Zadanie 10. (0–1)** 

Funkcja liniowa  $f$  jest określona wzorem  $f(x) = -\frac{1}{6}x + \frac{2}{3}$ .

Oceń prawdziwość poniższych stwierdzeń. Wybierz P, jeśli stwierdzenie jest prawdziwe, albo F – jeśli jest fałszywe.

Miejszem zerowym funkcji $f$ jest liczba 4.	P	F
Punkt przecięcia wykresu funkcji $f$ z osią $Oy$ ma współrzędne $(0, -\frac{1}{6})$ .	P	F

*Bruďnopsis*









**Zadanie 12. (0–1)**

Proces stygnięcia naparu z ziół w otoczeniu o stałej temperaturze  $22\text{ }^{\circ}\text{C}$  opisuje funkcja wykładnicza  $T(x) = 78 \cdot 2^{-0,05x} + 22$ , gdzie  $T(x)$  to temperatura naparu wyrażona w stopniach Celsjusza ( $^{\circ}\text{C}$ ) po  $x$  minutach liczonych od momentu  $x = 0$ , w którym zioła zalano wrzątkiem.

**Dokończ zdanie. Wybierz właściwą odpowiedź spośród podanych.**

Temperatura naparu po 20 minutach od momentu zalania ziół wrzątkiem jest równa

A.  $22\text{ }^{\circ}\text{C}$

B.  $39\text{ }^{\circ}\text{C}$

C.  $78\text{ }^{\circ}\text{C}$

D.  $61\text{ }^{\circ}\text{C}$

Brudnopis																			

**Zadanie 13. (0–1)**

Ciąg arytmetyczny  $(a_n)$  jest określony dla każdej liczby naturalnej  $n \geq 1$ . W tym ciągu  $a_2 = 4$  oraz  $a_3 = 9$ .

**Dokończ zdanie. Wybierz właściwą odpowiedź spośród podanych.**

Szósty wyraz ciągu  $(a_n)$  jest równy

A. 24

B. 29

C. 36

D. 69

Brudnopis																			





**Zadanie 16. (0–2)**

Dane są dwa kąty o miarach  $\alpha$  oraz  $\beta$ , spełniające warunki:

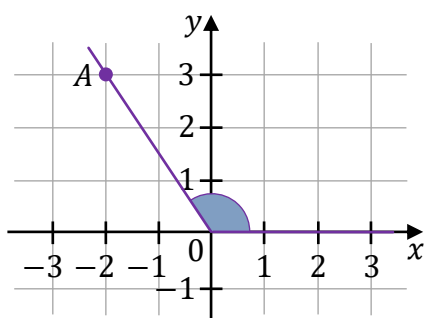
$$\alpha \in (0^\circ, 180^\circ) \text{ i } \operatorname{tg} \alpha = -\frac{2}{3} \text{ oraz } \beta \in (0^\circ, 180^\circ) \text{ i } \cos \beta = \frac{1}{\sqrt{10}}.$$

Na rysunkach A–F w kartezjańskim układzie współrzędnych  $(x, y)$  zaznaczono różne kąty – w tym kąt o mierze  $\alpha$  oraz kąt o mierze  $\beta$ . Jedno z ramion każdego z tych kątów pokrywa się z dodatnią półosią  $Ox$ , a drugie przechodzi przez jeden z punktów o współrzędnych całkowitych:  $A$  lub  $B$ , lub  $C$ , lub  $D$ , lub  $E$ , lub  $F$ .

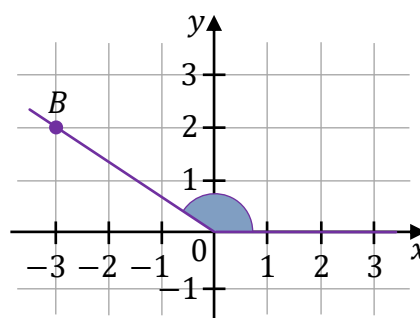
16. 0–1–2  
Uzupełnij tabelę. Wpisz w każdą pustą komórkę tabeli właściwą odpowiedź, wybraną spośród oznaczonych literami A–F.

16.1.	Kąt $\alpha$ jest zaznaczony na rysunku	
16.2.	Kąt $\beta$ jest zaznaczony na rysunku	

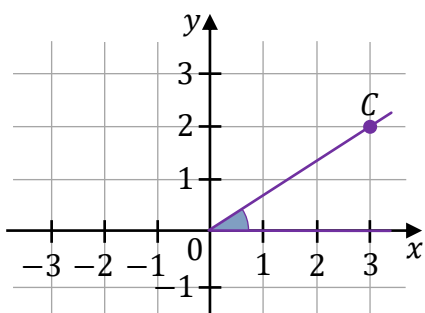
A.



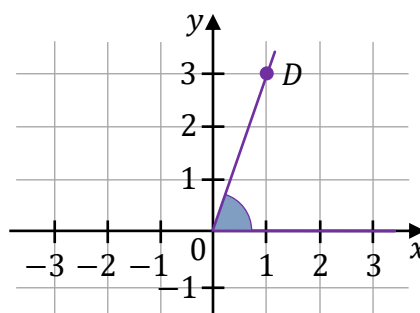
B.



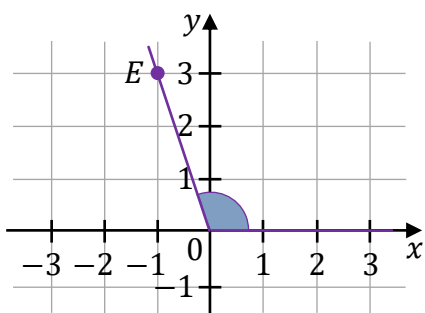
C.



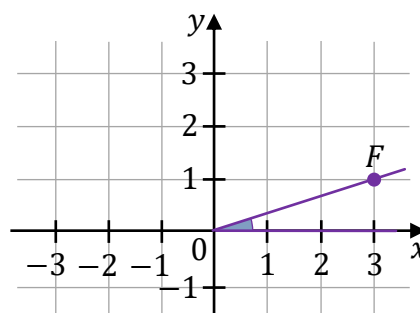
D.



E.



F.



Brudnopis

**Zadanie 17. (0–1)**



Kąt  $\alpha$  jest ostry oraz  $\sin \alpha = \frac{\sqrt{5}}{3}$ .

**Dokończ zdanie. Wybierz właściwą odpowiedź spośród podanych.**

Tangens kąta  $\alpha$  jest równy


A.  $\frac{\sqrt{5}}{2}$

B.  $\frac{2}{3}$

C.  $\frac{2\sqrt{5}}{5}$

D.  $\frac{3\sqrt{5}}{5}$

Brudnopis

**Zadanie 18. (0–1)** 

W kartezjańskim układzie współrzędnych  $(x, y)$  dana jest prosta  $l$  o równaniu  $y = \frac{3}{2}x - \frac{15}{2}$ . Prosta  $k$  jest prostopadła do prostej  $l$  i przechodzi przez punkt  $P = (6, 0)$ .

**Dokończ zdanie. Wybierz właściwą odpowiedź spośród podanych.**

Prosta  $k$  ma równanie


A.  $y = \frac{3}{2}x + 6$

B.  $y = -\frac{2}{3}x + 6$

C.  $y = \frac{3}{2}x - 9$

D.  $y = -\frac{2}{3}x + 4$

Brudnopis																			

**Zadanie 19. (0–1)** 

W kartezjańskim układzie współrzędnych  $(x, y)$  dane są proste  $k$  oraz  $l$  o równaniach

$$k: y = -\frac{1}{2}x - 7$$

$$l: y = (2m - 1)x + 13$$

**Dokończ zdanie. Wybierz właściwą odpowiedź spośród podanych.**

Proste  $k$  oraz  $l$  są równoległe, gdy

A.  $m = \left(-\frac{1}{2}\right)$

B.  $m = \frac{1}{4}$

C.  $m = \frac{3}{2}$

D.  $m = 2$

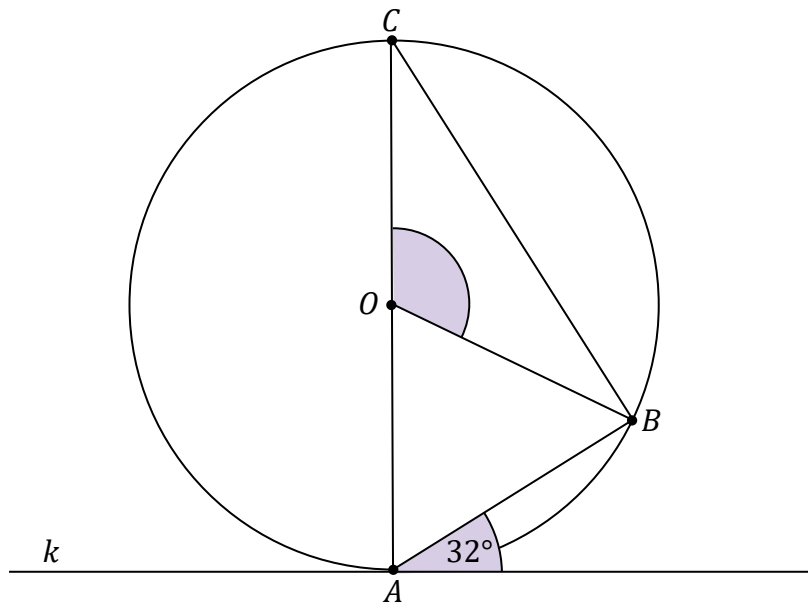
Brudnopis																			





**Zadanie 22. (0–1)**

Punkty  $A$ ,  $B$  oraz  $C$  leżą na okręgu o środku w punkcie  $O$ . Prosta  $k$  jest styczna do tego okręgu w punkcie  $A$  i tworzy z cięciwą  $AB$  kąt o mierze  $32^\circ$ . Ponadto odcinek  $AC$  jest średnicą tego okręgu (zobacz rysunek).



Dokończ zdanie. Wybierz właściwą odpowiedź spośród podanych.

Miara kąta rozwartego  $BOC$  jest równa


A.  $148^\circ$

B.  $116^\circ$

C.  $154^\circ$

D.  $122^\circ$

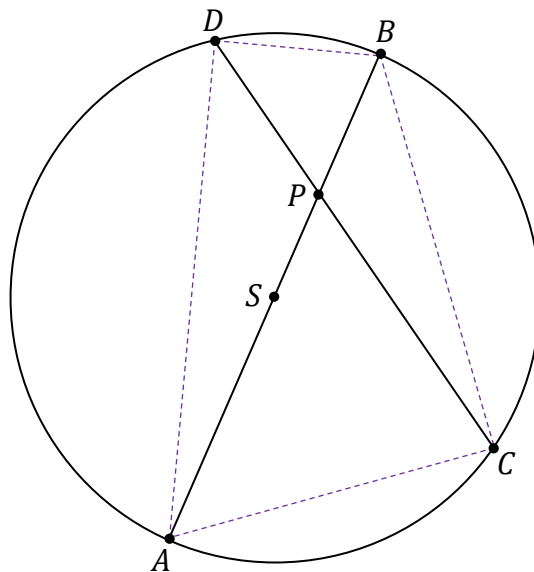
Brudnopis






**Zadanie 24. (0–2)**

Dany jest okrąg  $\mathcal{O}$  o środku w punkcie  $S$ . Średnica  $AB$  tego okręgu przecina cięciwę  $CD$  w punkcie  $P$  (zobacz rysunek). Ponadto:  $|PB| = 4$ ,  $|PC| = 8$  oraz  $|PD| = 5$ .




24.

0–1–2

**Oblicz promień okręgu  $\mathcal{O}$ . Zapisz obliczenia.**








### Zadanie 27. (0–2)

E-dowód ma zapisany na pierwszej stronie specjalny sześciocyfrowy numer CAN, który zabezpiecza go przed odczytaniem danych przez osoby nieuprawnione.

27.

0–1–2

Oblicz, ile jest wszystkich sześciocyfrowych numerów CAN o różnych cyfrach, spełniających warunek: trzy pierwsze cyfry są kolejnymi wyrazami ciągu arytmetycznego o różnicy  $(-3)$ . Zapisz obliczenia.










### Zadanie 30. (0–4)


Zgodnie z założeniem architekta okno na poddaszu ma mieć kształt trapezu równoramiennego, który nie jest równoległobokiem. Dłuższa podstawa trapezu ma mieć długość 12 dm, a suma długości krótszej podstawy i wysokości tego trapezu ma być równa 18 dm.

30.


0–1–  
2–3–4


**Oblicz, jaką długość powinna mieć krótsza podstawa tego trapezu, tak aby pole powierzchni okna było największe. Oblicz to pole. Zapisz obliczenia.**





**BRUDNOPIS (nie podlega ocenie)**









# MATEMATYKA

## Poziom podstawowy

*Formuła 2023*



# MATEMATYKA

## Poziom podstawowy

*Formuła 2023*



# MATEMATYKA

## Poziom podstawowy

*Formuła 2023*

