

WYPEŁNIA ZDAJĄCY

KOD

--	--	--

PESEL

--	--	--	--	--	--	--	--	--	--	--

Miejsce na naklejkę.

Sprawdź, czy kod na naklejce to
M-100.

Jeżeli tak – przyklej naklejkę.
Jeżeli nie – zgłoś to nauczycielowi.

Egzamin maturalny

Formuła 2023

MATEMATYKA

Poziom podstawowy

Symbol arkusza

MMAP-P0-**100**-2306

DATA: **2 czerwca 2023 r.**

GODZINA ROZPOCZĘCIA: **9:00**

CZAS TRWANIA: **180 minut**

LICZBA PUNKTÓW DO UZYSKANIA: **46**

WYPEŁNIA ZESPÓŁ NADZORUJĄCY

Uprawnienia zdającego do:

- dostosowania zasad oceniania
- dostosowania w zw. z dyskalkulią
- nieprzenoszenia zaznaczeń na kartę.




Przed rozpoczęciem pracy z arkuszem egzaminacyjnym

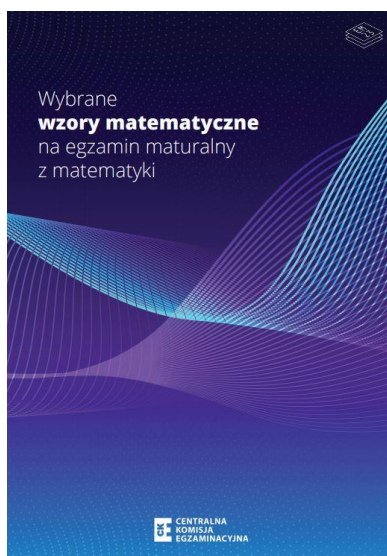
1. Sprawdź, czy nauczyciel przekazał Ci **właściwy arkusz egzaminacyjny**, tj. arkusz we **właściwej formule**, z **właściwego przedmiotu** na **właściwym poziomie**.
2. Jeżeli przekazano Ci **niewłaściwy** arkusz – natychmiast zgłoś to nauczycielowi. Nie rozrywaj banderol.
3. Jeżeli przekazano Ci **właściwy** arkusz – rozerwij banderole po otrzymaniu takiego polecenia od nauczyciela. Zapoznaj się z instrukcją na stronie 2.





Instrukcja dla zdającego


1. Sprawdź, czy arkusz egzaminacyjny zawiera 34 strony (zadania 1–33).
Ewentualny brak zgłoś przewodniczącemu zespołu nadzorującego egzamin.
2. Na pierwszej stronie arkusza oraz na karcie odpowiedzi wpisz swój numer PESEL i przyklej naklejkę z kodem.
3. Symbol  zamieszczony w nagłówku zadania oznacza, że rozwiązanie zadania zamkniętego musisz przenieść na kartę odpowiedzi.
4. Odpowiedzi do zadań zamkniętych zaznacz na karcie odpowiedzi w części karty przeznaczonej dla zdającego. Zamaluj  pola do tego przeznaczone. Błędne zaznaczenie otocz kółkiem  i zaznacz właściwe.
5. Pamiętaj, że pominięcie argumentacji lub istotnych obliczeń w rozwiązaniu zadania otwartego może spowodować, że za to rozwiązanie nie otrzymasz pełnej liczby punktów.
6. Rozwiązania zadań i odpowiedzi wpisuj w miejscu na to przeznaczonym.
7. Pisz czytelnie i używaj tylko długopisu lub pióra z czarnym tuszem lub atramentem.
8. Nie używaj korektora, a błędne zapisy wyraźnie przekreśl.
9. Pamiętaj, że zapisy w brudnopisie nie będą oceniane.
10. Możesz korzystać z *Wybranych wzorów matematycznych*, cyrkla i linijki oraz kalkulatora prostego. Upewnij się, czy przekazano Ci broszurę z okładką taką jak widoczna poniżej.



**Zadania egzaminacyjne są wydrukowane
na następnych stronach.**

Zadanie 3. (0–2)

Wykaż, że dla każdej liczby całkowitej k reszta z dzielenia liczby $49k^2 + 7k - 2$ przez 7 jest równa 5.




Zadanie 8. (0–2)

Rozwiąż nierówność

$$x(2x - 1) < 2x$$

Zapisz obliczenia.




Zadanie 9. (0–3)

Rozwiąż równanie

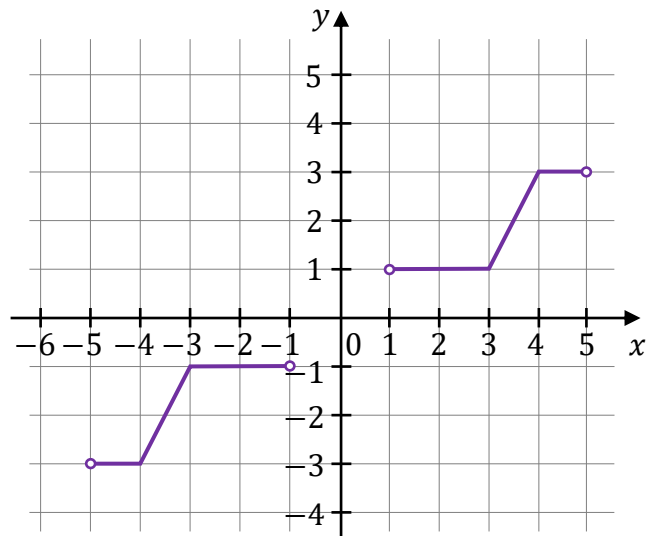
$$x^3 + 4x^2 - 9x - 36 = 0$$

Zapisz obliczenia.



Zadanie 13.

W kartezjańskim układzie współrzędnych (x, y) narysowano wykres funkcji $y = f(x)$ (zobacz rysunek).

**Zadanie 13.1. (0–2)**

Uzupełnij tabelę. Wpisz w każdą pustą komórkę tabeli właściwą odpowiedź, wybraną spośród oznaczonych literami A–F.

Dziedziną funkcji f jest zbiór	
Zbiorem wartości funkcji f jest zbiór	

- A. $[-3, -1] \cup [1, 3]$
- B. $(-3, 3)$
- C. $(-3, -1) \cup (1, 3)$
- D. $[-5, -1] \cup [1, 5]$
- E. $(-5, 5)$
- F. $(-5, -1) \cup (1, 5)$

<i>Brudnopis</i>																				



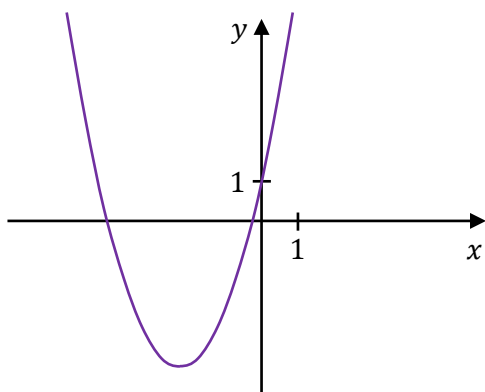
Zadanie 14. (0–1)

Funkcja kwadratowa f jest określona wzorem $f(x) = ax^2 + bx + 1$, gdzie a oraz b są pewnymi liczbami rzeczywistymi, takimi, że $a < 0$ i $b > 0$. Na jednym z rysunków A–D przedstawiono fragment wykresu tej funkcji w kartezjańskim układzie współrzędnych (x, y) .

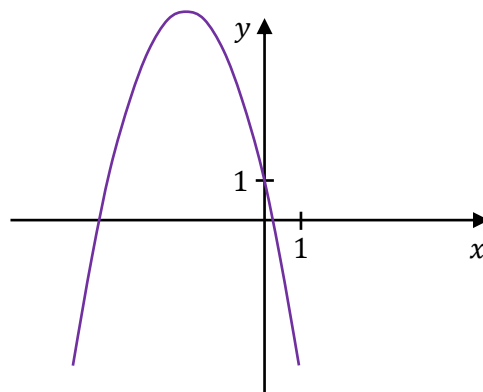
Dokończ zdanie. Wybierz właściwą odpowiedź spośród podanych.

Fragment wykresu funkcji f przedstawiono na rysunku

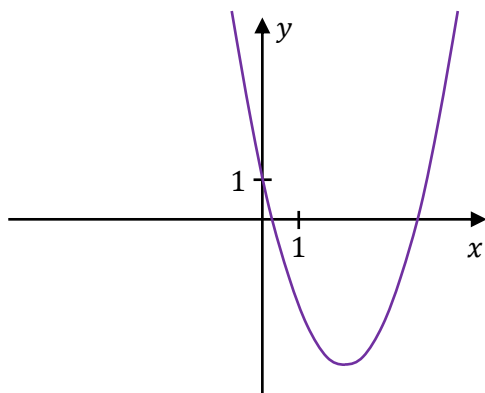
A.



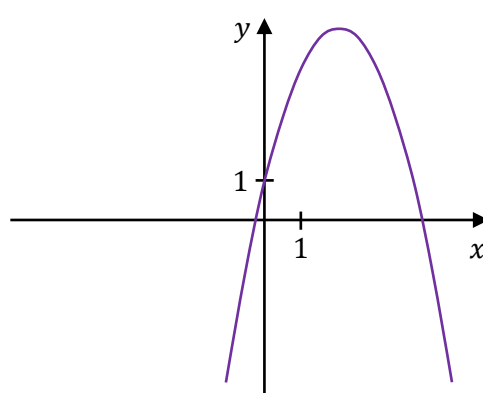
B.




C.



D.

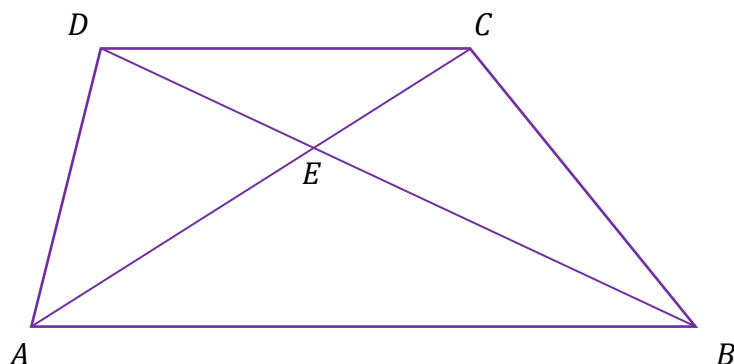


Brudnopis



Zadanie 22. (0–1)


W trapezie $ABCD$ o podstawach AB i CD przekątne przecinają się w punkcie E (zobacz rysunek).




Oceń prawdziwość poniższych stwierdzeń. Wybierz P, jeśli stwierdzenie jest prawdziwe, albo F – jeśli jest fałszywe.

Trójkąt ABE jest podobny do trójkąta CDE .	P	F
Pole trójkąta ACD jest równe polu trójkąta BCD .	P	F

Brudnopis



Zadanie 24. (0–1) 


Pole trójkąta równobocznego T_1 jest równe $\frac{(1,5)^2 \cdot \sqrt{3}}{4}$. Pole trójkąta równobocznego T_2 jest równe $\frac{(4,5)^2 \cdot \sqrt{3}}{4}$.

Dokończ zdanie tak, aby było prawdziwe. Wybierz odpowiedź A albo B oraz jej uzasadnienie 1., 2. albo 3.

Trójkąt T_2 jest podobny do trójkąta T_1 w skali

A.	3,	ponieważ	1.	każdy z tych trójkątów ma dokładnie trzy osie symetrii.
			2.	pole trójkąta T_2 jest 9 razy większe od pola trójkąta T_1 .
B.	9,		3.	bok trójkąta T_2 jest o 3 dłuższy od boku trójkąta T_1 .

Brudnopis




Zadanie 32. (0–2)

Ze zbioru ośmiu kolejnych liczb naturalnych – od 1 do 8 – losujemy kolejno bez zwracania dwa razy po jednej liczbie.

Niech A oznacza zdarzenie polegające na tym, że suma wylosowanych liczb jest dzielnikiem liczby 8.

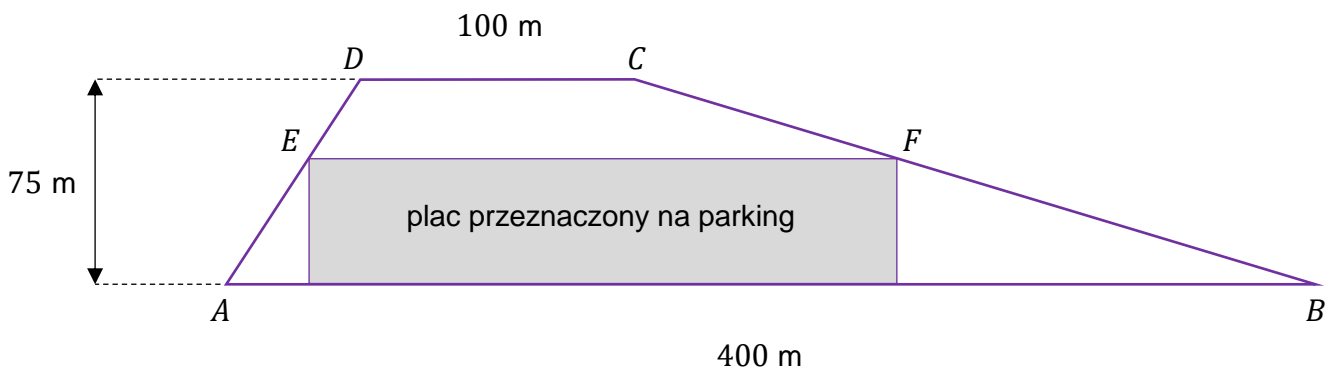
Oblicz prawdopodobieństwo zdarzenia A . Zapisz obliczenia.



Zadanie 33. (0–4)

Działka ma kształt trapezu. Podstawy AB i CD tego trapezu mają długości $|AB| = 400$ m oraz $|CD| = 100$ m. Wysokość trapezu jest równa 75 m, a jego kąty DAB i ABC są ostre.

Z działki postanowiono wydzielić plac w kształcie prostokąta z przeznaczeniem na parking. Dwa z wierzchołków tego prostokąta mają leżeć na podstawie AB tego trapezu, a dwa pozostałe – E oraz F – na ramionach AD i BC trapezu (zobacz rysunek).





Wyznacz długości boków prostokąta, dla których powierzchnia wydzielonego placu będzie największa. Wyznacz tę największą powierzchnię. Zapisz obliczenia.

Wskazówka:


Aby powiązać ze sobą wymiary prostokąta, skorzystaj z tego, że pole trapezu $ABCD$ jest sumą pól trapezów $ABFE$ oraz $EFCD$:


$$P_{ABCD} = P_{ABFE} + P_{EFCD}$$






BRUDNOPIS (nie podlega ocenie)







MATEMATYKA

Poziom podstawowy

Formuła 2023



MATEMATYKA

Poziom podstawowy

Formuła 2023



MATEMATYKA

Poziom podstawowy

Formuła 2023

