

WYPEŁNIA ZDAJĄCY

KOD

--	--	--

PESEL

--	--	--	--	--	--	--	--	--	--	--	--

Miejsce na naklejkę.

Sprawdź, czy kod na naklejce to
M-100.

Jeżeli tak – przyklej naklejkę.
Jeżeli nie – zgłoś to nauczycielowi.

Egzamin maturalny

Formuła 2023

MATEMATYKA

Poziom podstawowy

TEST DIAGNOSTYCZNY

Symbol arkusza

MMA-P0-**100**-2212

DATA: **14 grudnia 2022 r.**

GODZINA ROZPOCZĘCIA: **9:00**

CZAS TRWANIA: **180 minut**

LICZBA PUNKTÓW DO UZYSKANIA: **46**

WYPEŁNIA ZESPÓŁ NADZORUJĄCY


Uprawnienia zdającego do:

- dostosowania zasad oceniania
- dostosowania w zw. z dyskalkulią
- nieprzenoszenia zaznaczeń na kartę.




Przed rozpoczęciem pracy z arkuszem egzaminacyjnym

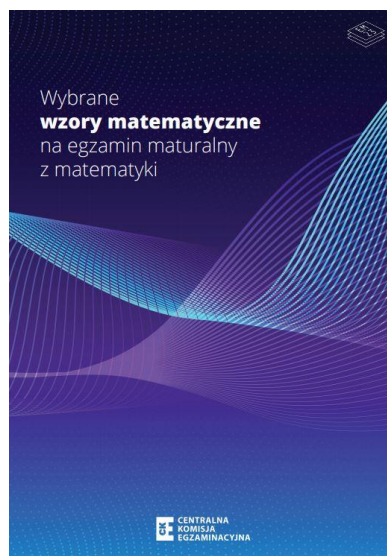
1. Sprawdź, czy nauczyciel przekazał Ci **właściwy arkusz egzaminacyjny**, tj. arkusz we **właściwej formule**, z **właściwego przedmiotu** na **właściwym poziomie**.
2. Jeżeli przekazano Ci **niewłaściwy** arkusz – natychmiast zgłoś to nauczycielowi. Nie rozrywaj banderol.
3. Jeżeli przekazano Ci **właściwy** arkusz – rozerwij banderole po otrzymaniu takiego polecenia od nauczyciela. Zapoznaj się z instrukcją na stronie 2.





Instrukcja dla zdającego

1. Sprawdź, czy arkusz egzaminacyjny zawiera 32 strony (zadania 1–33).
Ewentualny brak zgłoś przewodniczącemu zespołu nadzorującego egzamin.
2. Na pierwszej stronie arkusza oraz na karcie odpowiedzi wpisz swój numer PESEL i przyklej naklejkę z kodem.
3. Pamiętaj, że pominięcie argumentacji lub istotnych obliczeń w rozwiązaniu zadania otwartego może spowodować, że za to rozwiązanie nie otrzymasz pełnej liczby punktów.
4. Rozwiązania zadań i odpowiedzi wpisuj w miejscu na to przeznaczonym.
5. Symbol  zamieszczony w nagłówku zadania oznacza, że rozwiązanie zadania zamkniętego musisz przenieść na kartę odpowiedzi.
6. Odpowiedzi do zadań zamkniętych zaznacz na karcie odpowiedzi w części karty przeznaczonej dla zdającego. Zamaluj  pola do tego przeznaczone. Błędne zaznaczenie otocz kółkiem  i zaznacz właściwe.
7. Nie wpisuj żadnych znaków w tabelkach przeznaczonych dla egzaminatora.
Tabelki umieszczone są na marginesie przy odpowiednich zadaniach.
8. Pisz czytelnie i używaj tylko długopisu lub pióra z czarnym tuszem lub atramentem.
9. Nie używaj korektora, a błędne zapisy wyraźnie przekreśl.
10. Pamiętaj, że zapisy w brudnopisie nie będą oceniane.
11. Możesz korzystać z *Wybranych wzorów matematycznych*, cyrkla i linijki oraz kalkulatora prostego. Upewnij się, czy przekazano Ci broszurę z taką okładką, jak poniżej.



**Zadania egzaminacyjne są wydrukowane
na następnych stronach.**


Zadanie 7.2. (0–2)

Wyznacz wzór funkcji kwadratowej f w postaci kanonicznej.

Zapisz obliczenia.

7.2.

0–1–2



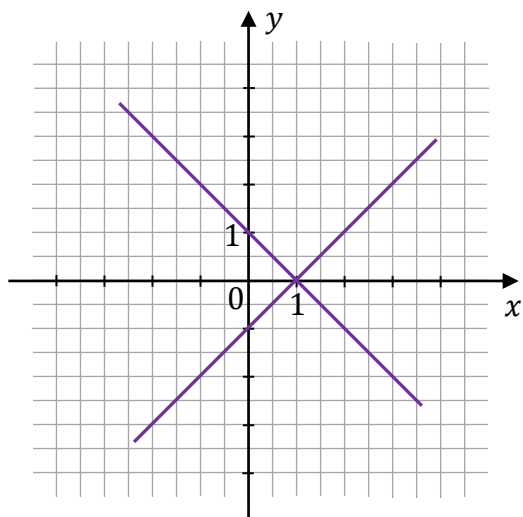
Zadanie 10. (0–1)

Dany jest układ równań

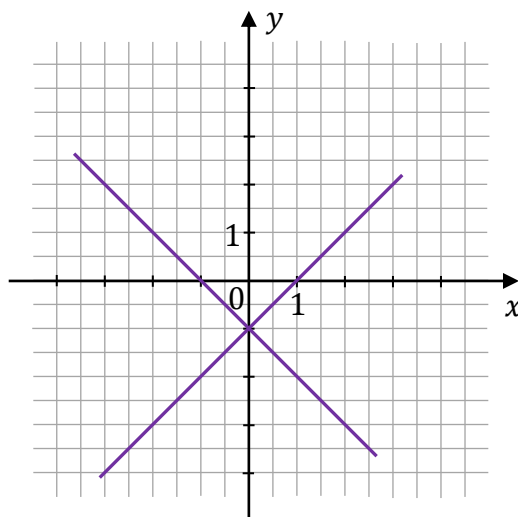
$$\begin{cases} y = x - 1 \\ y = -x + 1 \end{cases}$$

Na którym z rysunków A–D przedstawiona jest interpretacja geometryczna tego układu równań? Wybierz właściwą odpowiedź spośród podanych.

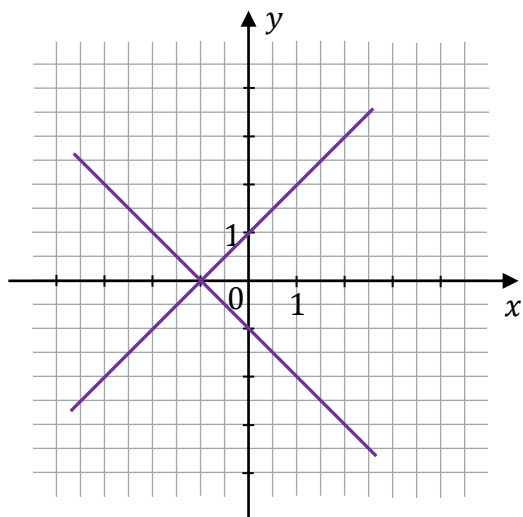
A.



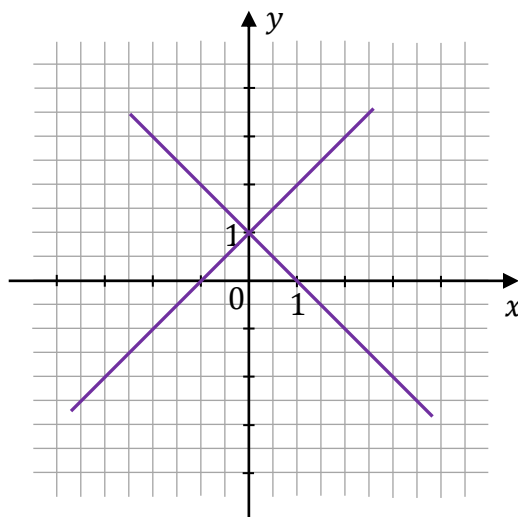
B.




C.



D.



Zadanie 11. (0–1) 


Dany jest wielomian W określony wzorem $W(x) = x^3 - 2x^2 - 3x + 6$ dla każdej liczby rzeczywistej x .

Dokończ zdanie. Wybierz właściwą odpowiedź spośród podanych.

Wielomian W przy rozkładzie na czynniki ma postać

- A. $W(x) = (x + 2)(x^2 - 3)$
- B. $W(x) = (x - 2)(x^2 - 3)$
- C. $W(x) = (x + 2)(x^2 + 3)$
- D. $W(x) = (x - 2)(x^2 + 3)$

Brudnopis																			

Zadanie 12. (0–1) 

Dokończ zdanie. Wybierz właściwą odpowiedź spośród podanych.


Równanie $\frac{(4-x)(2x-3)}{(3x-5)(3-2x)} = 0$ w zbiorze liczb rzeczywistych ma dokładnie


- A. jedno rozwiązanie.
- B. dwa rozwiązania.
- C. trzy rozwiązania.
- D. cztery rozwiązania.

Brudnopis																			

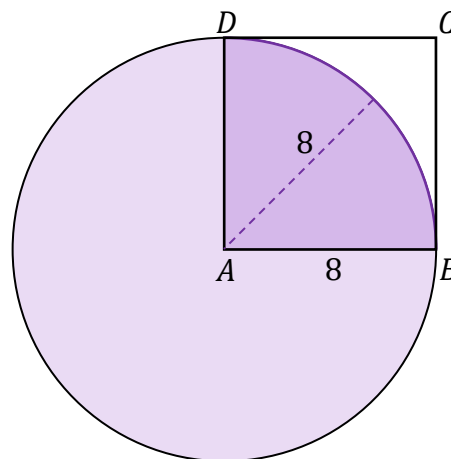


**Kolejne zadania egzaminacyjne są wydrukowane
na następnych stronach.**



Zadanie 21. (0–1) 

Dany jest kwadrat $ABCD$ o boku długości 8.
Z wierzchołka A zakreślono koło o promieniu równym
długości boku kwadratu (zobacz rysunek).



Dokończ zdanie. Wybierz właściwą odpowiedź spośród podanych.

Pole powierzchni części wspólnej koła i kwadratu jest równe


A. 16π

B. 8π

C. $4\sqrt{2}\pi$

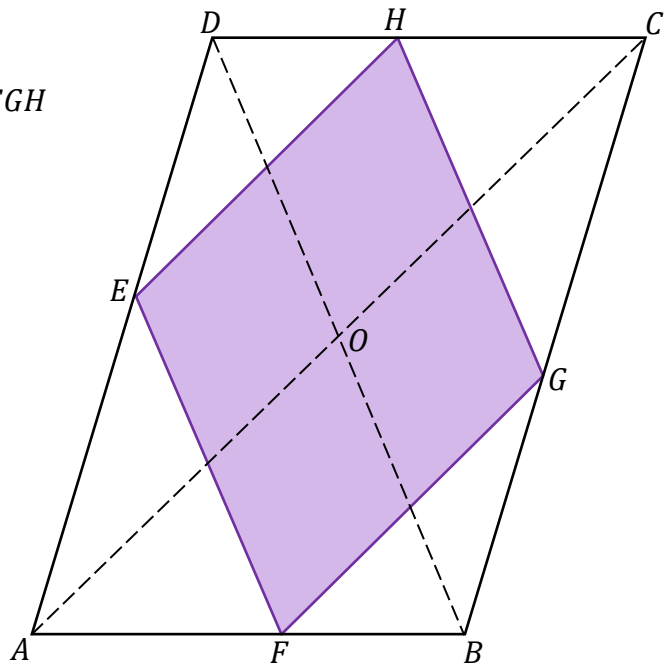
D. $16\sqrt{2}\pi$

Brudnopis



Zadanie 23. (0–2)


Przekątne równoległoboku $ABCD$ mają długości: $|AC| = 16$ oraz $|BD| = 12$. Wierzchołki E, F, G oraz H rombu $EFGH$ leżą na bokach równoległoboku $ABCD$ (zobacz rysunek). Boki tego rombu są równoległe do przekątnych równoległoboku.



23.

Oblicz długość boku rombu $EFGH$.

0–1–2


Zapisz obliczenia.

Zadanie 24. (0–2)

Dany jest trójkąt ABC , w którym $|AC| = 4$, $|AB| = 3$, $\cos \sphericalangle BAC = \frac{4}{5}$.

Oblicz pole trójkąta ABC .

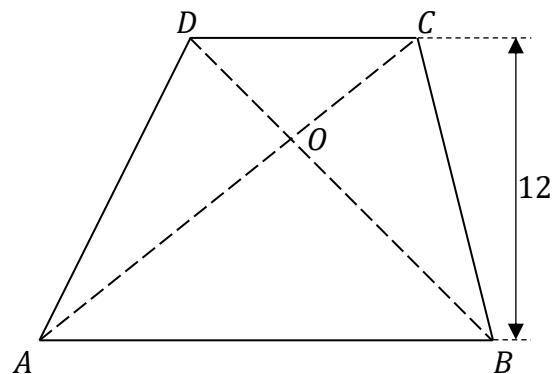
Zapisz obliczenia.



24.
0–1–2

Zadanie 26. (0–1)

Dany jest trapez $ABCD$, w którym $AB \parallel CD$ oraz przekątne AC i BD przecinają się w punkcie O (zobacz rysunek). Wysokość tego trapezu jest równa 12. Obwód trójkąta ABO jest równy 39, a obwód trójkąta CDO jest równy 13.



Dokończ zdanie. Wybierz właściwą odpowiedź spośród podanych.

Wysokość trójkąta ABO poprowadzona z punktu O jest równa

- A. 3 B. 4 C. 9 D. 6

Brudnopis																			

Zadanie 27. (0–1)

Na płaszczyźnie, w kartezjańskim układzie współrzędnych (x, y) , dany jest okrąg \mathcal{O} o równaniu

$$(x - 3)^2 + (y - 3)^2 = 13$$

Dokończ zdanie. Wybierz właściwą odpowiedź spośród podanych.

Okrąg \mathcal{O} przecina oś Oy w punktach o współrzędnych

- A. $(0, 1)$ i $(0, 5)$. B. $(0, 1)$ i $(0, -5)$.
 C. $(1, 0)$ i $(5, 0)$. D. $(0, -1)$ i $(0, 5)$.

Brudnopis																			


30.2.

0-1-2

Zadanie 30.2. (0-2)

Oblicz cosinus kąta nachylenia krawędzi bocznej ostrosłupa do płaszczyzny podstawy.

Zapisz obliczenia.



Zadanie 33. (0–2)

W eksperymencie badano kiełkowanie nasion w pięciu donicach. Na koniec eksperymentu policzono wykiełkowane nasiona w każdej z donic:

- w I donicy – 133 nasiona
- w II donicy – 140 nasion
- w III donicy – 119 nasion
- w IV donicy – 147 nasion
- w V donicy – 161 nasion.


Odchylenie standardowe liczby wykiełkowanych nasion jest równe $\sigma = 14$.

33.


0–1–2


Podaj numery donic, w których liczba wykiełkowanych nasion mieści się w przedziale określonym przez jedno odchylenie standardowe od średniej.

Zapisz obliczenia.



BRUDNOPIS (nie podlega ocenie)





MATEMATYKA

Poziom podstawowy

Formuła 2023



MATEMATYKA

Poziom podstawowy

Formuła 2023



MATEMATYKA

Poziom podstawowy

Formuła 2023

