

WYPEŁNIA ZDAJĄCY

KOD

--	--	--

PESEL

--	--	--	--	--	--	--	--	--	--

Miejsce na naklejkę.

Sprawdź, czy kod na naklejce to
M-100.

Jeżeli tak – przyklej naklejkę.
Jeżeli nie – zgłoś to nauczycielowi.

EGZAMIN MATURALNY Z MATEMATYKI
POZIOM PODSTAWOWY

ARKUSZ POKAZOWY

TERMIN: **4 marca 2022 r.**

CZAS PRACY: **180 minut**

LICZBA PUNKTÓW DO UZYSKANIA: **46**




WYPEŁNIA ZESPÓŁ NADZORUJĄCY


Uprawnienia zdającego do:

- dostosowania zasad oceniania
- dostosowania w zw. z dyskalkulią
- nieprzenoszenia zaznaczeń na kartę.

MMA-P0-**100**-2203

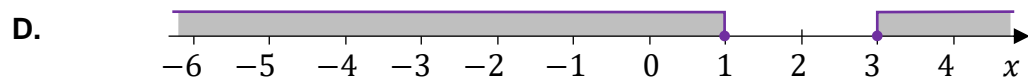
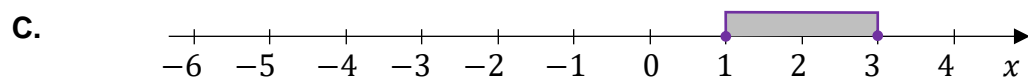
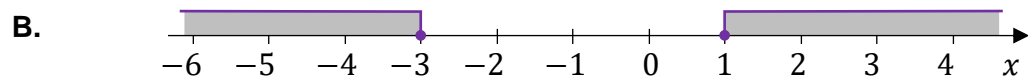
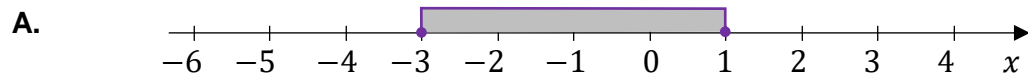
Instrukcja dla zdającego

1. Sprawdź, czy arkusz egzaminacyjny zawiera 31 stron (zadania 1–30).
Ewentualny brak zgłoś przewodniczącemu zespołu nadzorującego egzamin.
2. Na tej stronie oraz na karcie odpowiedzi wpisz swój numer PESEL i przyklej naklejkę z kodem.
3. Nie wpisuj żadnych znaków w części przeznaczonej dla egzaminatora.
4. Rozwiązania zadań i odpowiedzi wpisuj w miejscu na to przeznaczonym.
5. Symbol  zamieszczony w nagłówku zadania oznacza, że rozwiązanie zadania zamkniętego musisz przenieść na kartę odpowiedzi.
6. Odpowiedzi do zadań zamkniętych zaznacz na karcie odpowiedzi w części karty przeznaczonej dla zdającego. Zamaluj  pola do tego przeznaczone. Błędne zaznaczenie otocz kółkiem  i zaznacz właściwe.
7. Pamiętaj, że pominięcie argumentacji lub istotnych obliczeń w rozwiązaniu zadania otwartego może spowodować, że za to rozwiązanie nie otrzymasz pełnej liczby punktów.
8. Pisz czytelnie i używaj tylko długopisu lub pióra z czarnym tuszem lub atramentem.
9. Nie używaj korektora, a błędne zapisy wyraźnie przekreśl.
10. Pamiętaj, że zapisy w brudnopisie nie będą oceniane.
11. Możesz korzystać z zestawu wzorów matematycznych, cyrkla i linijki oraz kalkulatora prostego.


Zadanie 8. (0–1) 

Spośród rysunków A–D wybierz ten, na którym prawidłowo zaznaczono na osi liczbowej zbiór wszystkich liczb rzeczywistych spełniających nierówność:

$$|x + 1| \leq 2$$




Brudnopis



Zadanie 9. (0–2)

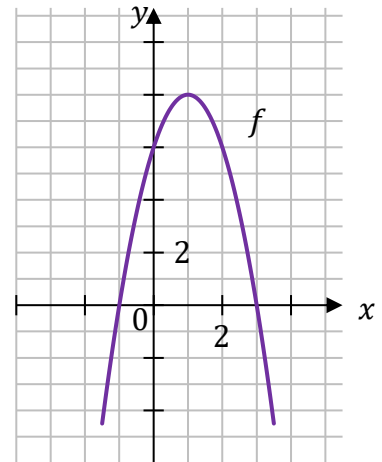
Wykaż, że dla każdej liczby całkowitej nieparzystej n liczba $n^2 + 2023$ jest podzielna przez 8.



Wypełnia egzaminator	Nr zadania	9.
	Maks. liczba pkt	2
	Uzyskana liczba pkt	

Zadanie 10.

Dana jest funkcja kwadratowa f , której fragment wykresu przedstawiono w kartezjańskim układzie współrzędnych (x, y) na rysunku obok. Wierzchołek paraboli, która jest wykresem funkcji f , oraz punkty przecięcia paraboli z osiami układu współrzędnych mają współrzędne całkowite.

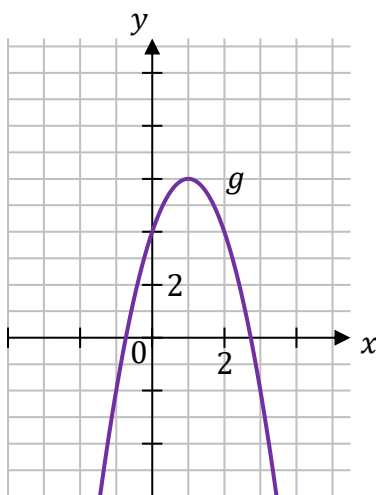
**Zadanie 10.1. (0–1)**

Funkcja g jest określona za pomocą funkcji f następująco: $g(x) = f(x - 2)$.

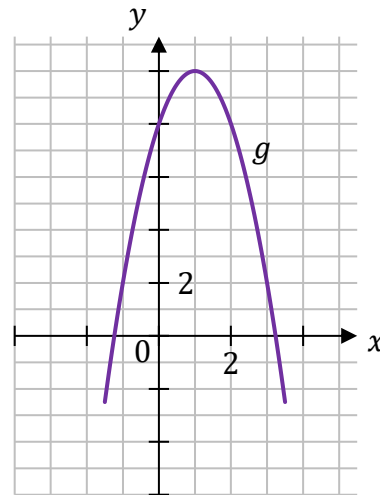
Dokończ zdanie. Wybierz właściwą odpowiedź spośród podanych.

Wykres funkcji g przedstawiono na rysunku

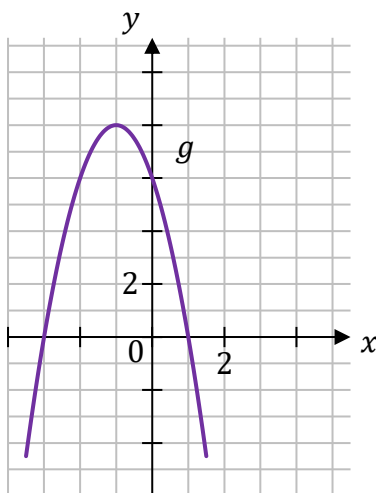
A.



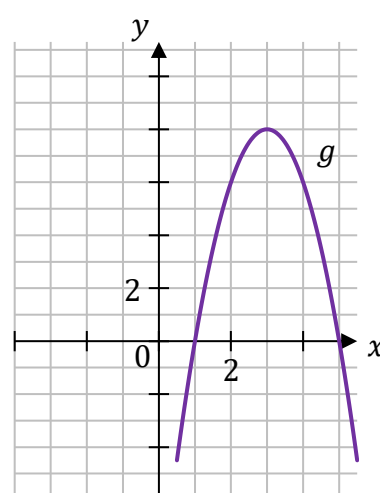
B.



C.



D.



Zadanie 10.2. (0–1)


Wyznacz i zapisz w miejscu wykropkowanym poniżej zbiór wszystkich rozwiązań nierówności:

$$f(x) \leq 0$$

.....

Zadanie 10.3. (0–3)

Wyznacz wzór funkcji kwadratowej f w postaci kanonicznej.
Zapisz obliczenia.



Wypełnia egzaminator	Nr zadania	10.2.	10.3.
	Maks. liczba pkt	1.	3
	Uzyskana liczba pkt		

Zadanie 13.

Czas T półtrwania leku w organizmie to czas, po którym masa leku w organizmie zmniejsza się o połowę – po przyjęciu jednorazowej dawki.

Przyjmij, że po przyjęciu jednej dawki masa m leku w organizmie zmienia się w czasie zgodnie z zależnością wykładniczą

$$m(t) = m_0 \cdot \left(\frac{1}{2}\right)^{\frac{t}{T}}$$

gdzie:

m_0 – masa przyjętej dawki leku

T – czas półtrwania leku

t – czas liczony od momentu przyjęcia dawki.

W przypadku przyjęcia kilku(nastu) dawek powyższa zależność pozwala obliczyć, ile leku pozostało w danym momencie w organizmie z każdej poprzednio przyjętej dawki. W ten sposób obliczone masy leku z przyjętych poprzednich dawek sumują się i dają informację o całkowitej aktualnej masie leku w organizmie.

Pacjent otrzymuje co 4 dni o tej samej godzinie dawkę $m_0 = 100$ mg leku L. Czas półtrwania tego leku w organizmie jest równy $T = 4$ doby.

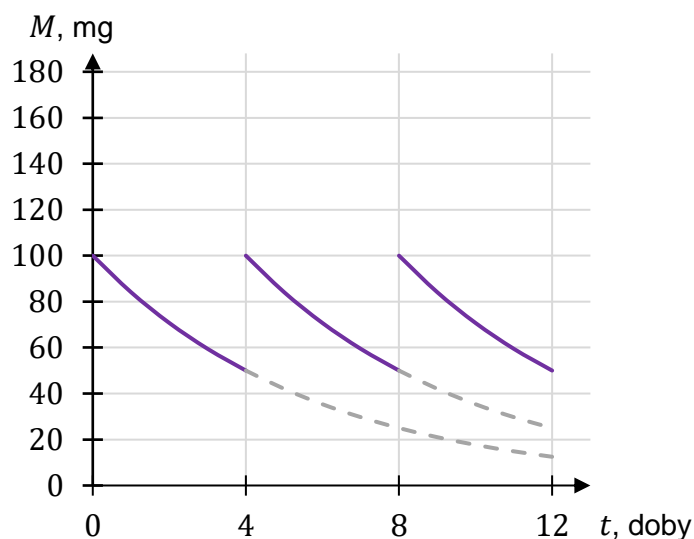
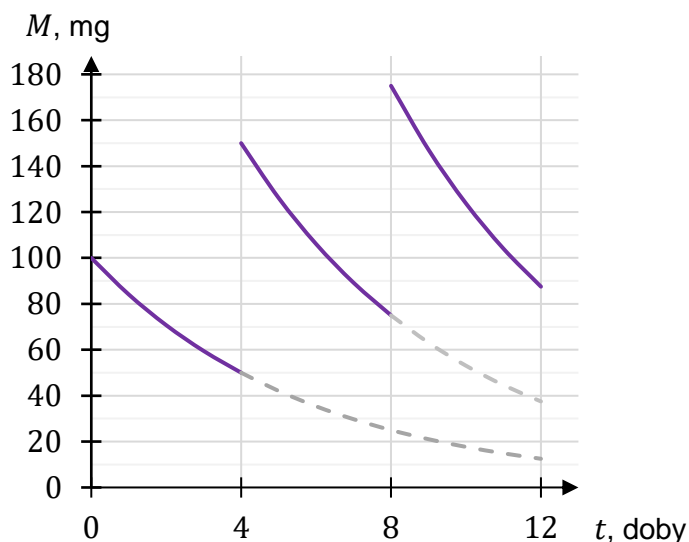
Zadanie 13.1. (0–1)

Dokończ zdanie. Wybierz właściwą odpowiedź spośród podanych.

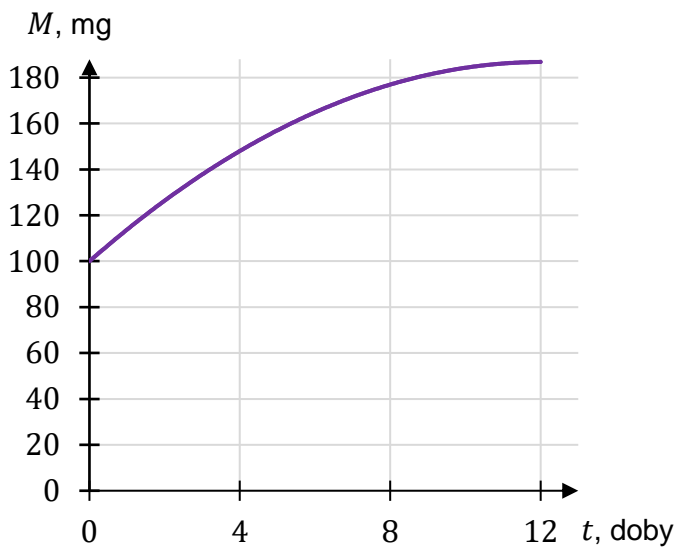
Wykres zależności masy M leku L w organizmie tego pacjenta od czasu t , liczonego od momentu przyjęcia przez pacjenta pierwszej dawki, przedstawiono na rysunku

A.

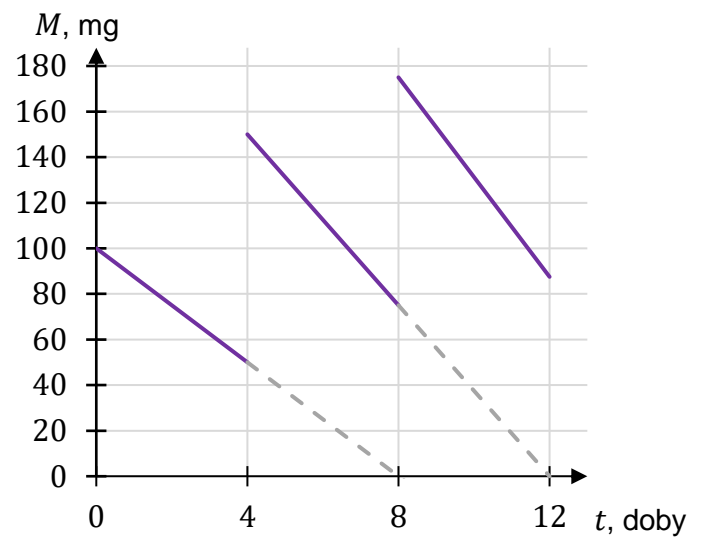
B.



C.




D.





Zadanie 13.2. (0–3)

Oblicz masę leku L w organizmie tego pacjenta tuż przed przyjęciem jedenastej dawki tego leku. Wynik podaj w zaokrągleniu do $0,1$ mg.

Zapisz obliczenia.





Zadanie 19. (0–2) 

Na płaszczyźnie, w kartezjańskim układzie współrzędnych (x, y) , dana jest prosta k o równaniu $y = -3x + 1$.

Dokończ zdania. Wybierz odpowiedź spośród A–D oraz odpowiedź spośród E–H.


19.1. Jedną z prostych równoległych do prostej k jest prosta o równaniu

- A. $y = 3x + 2$ B. $y = -3x + 2$ C. $y = \frac{1}{3}x + 1$ D. $y = -\frac{1}{3}x + 1$

19.2. Jedną z prostych prostopadłych do prostej k jest prosta o równaniu

- E. $y = \frac{1}{3}x + 2$ F. $y = -\frac{1}{3}x + 2$ G. $y = 3x + 1$ H. $y = -3x + 1$

<i>Brudnopis</i>																			

Zadanie 20. (0–1) 

W kartezjańskim układzie współrzędnych (x, y) dany jest kwadrat $ABCD$. Wierzchołki $A = (-2, 1)$ i $C = (4, 5)$ są końcami przekątnej tego kwadratu.

Dokończ zdanie. Wybierz właściwą odpowiedź spośród podanych.

Długość przekątnej kwadratu $ABCD$ jest równa

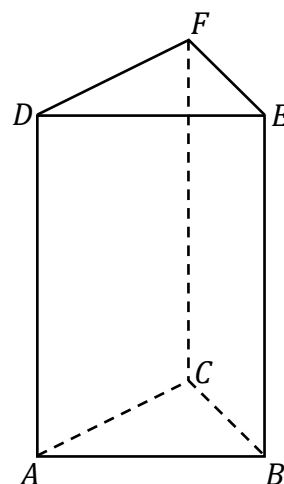
- A. 10 B. $2\sqrt{13}$ C. $2\sqrt{10}$ D. 8

<i>Brudnopis</i>																			

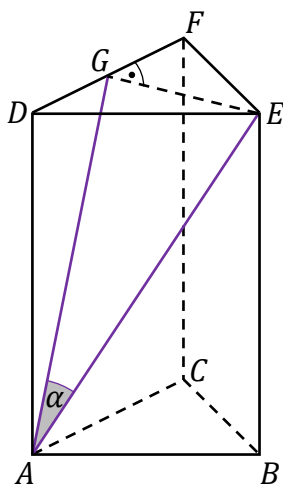
Zadanie 27. (0–1)

Dany jest graniastosłup prawidłowy trójkątny $ABCDEF$ (zobacz rysunek obok).

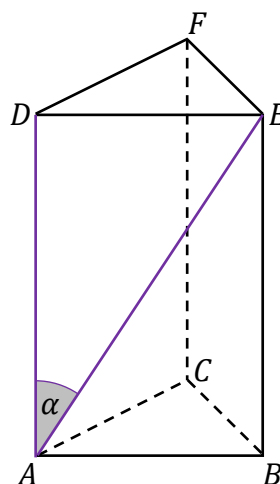
Na którym z rysunków prawidłowo narysowano, oznaczono i podpisano kąt α pomiędzy ścianą boczną $ACFD$ i przekątną AE ściany bocznej $ABED$ tego graniastoslupa? Wybierz właściwą odpowiedź spośród podanych.



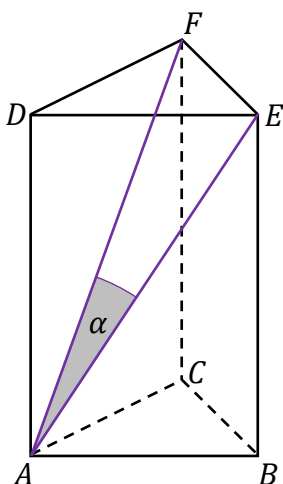
A. $\alpha = \sphericalangle EAG$



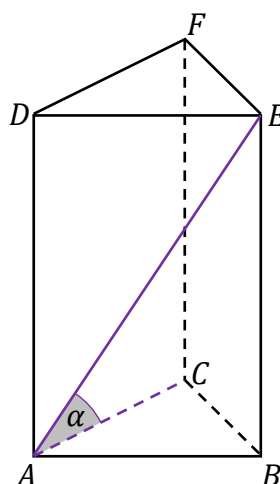
B. $\alpha = \sphericalangle EAD$



C. $\alpha = \sphericalangle EAF$




D. $\alpha = \sphericalangle EAC$



Zadanie 28. (0–3)

W pojemniku znajdują się losy loterii fantowej ponumerowane kolejnymi liczbami naturalnymi od 1000 do 9999. Każdy los, którego numer jest liczbą o sumie cyfr równej 3, jest wygrywający. Uczestnicy loterii losują z pojemnika po jednym losie.

**Oblicz prawdopodobieństwo zdarzenia polegającego na tym, że pierwszy los wyciągnięty z pojemnika był wygrywający.
Zapisz obliczenia.**



Wypełnia egzaminator	Nr zadania	28.
	Maks. liczba pkt	3
	Uzyskana liczba pkt	


Zadanie 29. (0–4)


Rozważamy wszystkie równoległoboki o obwodzie równym 200 i kącie ostrym o mierze 30° .

Podaj wzór i dziedzinę funkcji opisującej zależność pola takiego równoległoboku od długości x boku równoległoboku.

Oblicz wymiary tego z rozważanych równoległoboków, który ma największe pole, i oblicz to największe pole.

Zapisz obliczenia.





Wypełnia egzaminator	Nr zadania	29.
	Maks. liczba pkt	4
	Uzyskana liczba pkt	

BRUDNOPIS (nie podlega ocenie)

